





Która jest godzina?


Zapisz słownie godzinę na trzy sposoby.



1.
2.
3.



1.
2.
3.



1.
2.
3.

Ile czasu upłynęło?

1. Od godziny **14:05** do godziny **14:57** mija minut.
2. Od godziny **03:27** do godziny **03:54** mija minut.
3. Od godziny **12:37** do godziny **13:00** mija minut.
4. Od godziny **07:28** do godziny **10:17** mija godzin minut.
5. Od godziny **19:15** do godziny **20:35** mija godzin minut.
6. Od godziny **17:12** do godziny **21:03** mija godzin minut.
7. Od godziny **13:27** do godziny **23:52** mija godzin minut.
8. Od godziny **22:59** do godziny **00:15** mija godzin minut.
9. Od godziny **21:49** do godziny **03:13** mija godzin minut.
10. Od godziny **21:35 w czwartek** do godziny **15:15 w piątek** mija godzin minut.
11. Od godziny **14:32 we wtorek** do godziny **22:58 w czwartek** mija godzin minut.