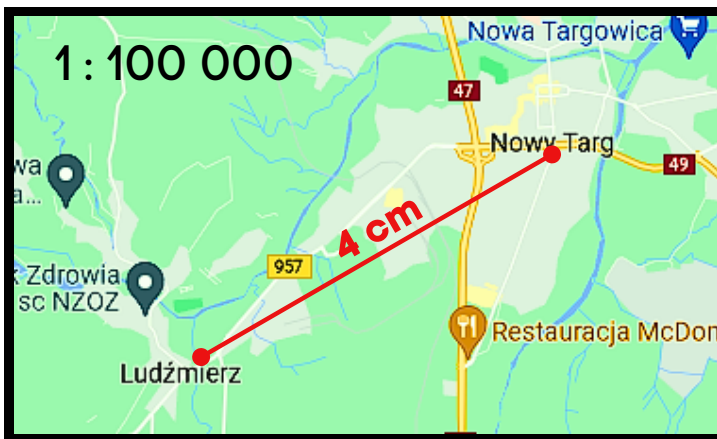
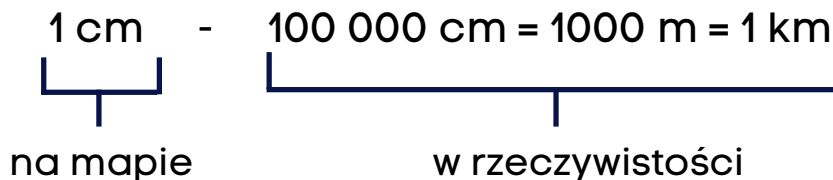


# SKALA NA MAPIE I PLANIE



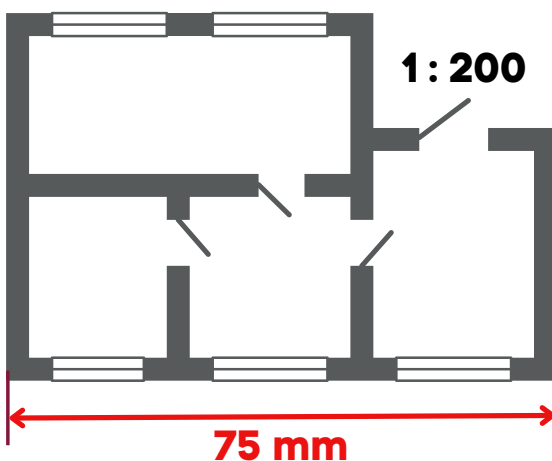
Jaka jest rzeczywista odległość między Ludźmierzem a Nowym Targiem?

**Skala 1 : 100 000**



• 4      1 cm - 1 km      • 4      **Odp.** Odległość między Ludźmierzem a Nowym Targiem wynosi w rzeczywistości 4 km.

    4 cm - 4 km



Jaka jest rzeczywista długość budynku przedstawionego na planie obok?

**Skala 1 : 200**



• 75      1 mm - 20 cm      • 75      **Odp.** Rzeczywista długość budynku to 15 metrów.

    75 mm - 1500 cm = 15 m