


ZADANIE 1

Sformułuj poniższe zdanie tak, aby zamiast procentu występował ułamek.

Okolo 60% Polaków mieszka w mieście.



"Matematyka z plusem" GWO

ZADANIE 2

Sformułuj poniższe zdanie tak, aby zamiast procentu występował ułamek.


Okolo 98% rodzin
w Polsce ma
telewizor.



ZADANIE 3

Sformułuj poniższe zdanie tak, aby zamiast procentu występował ułamek.

Lasy zajmują 30% powierzchni Polski.



ZADANIE 4

Sformułuj poniższe zdanie tak,
aby zamiast procentu
występował ułamek.

**Kobiety stanowią więcej
niż 50% ludności Polski.**



ZADANIE 5

Sformułuj poniższe zdanie tak, aby wypowiedzi były wyrażone procentami.

Jakieś ponure te dzieła -
połowa zupełnie mi się
nie podoba.

MATINE
UlaK



"Matematyka z plusem" GWO

ZADANIE 6

Sformułuj poniższe zdanie tak, aby wypowiedzi były wyrażone procentami.

MATINE
UlaK

Myślę, że co najmniej jedna czwarta tych obrazów powinna znaleźć się w Muzeum Narodowym.



"Matematyka z plusem" GWO

ZADANIE 7

Sformułuj poniższe zdanie tak, aby wypowiedzi były wyrażone procentami.



Mniej więcej co piąty
zwiedzający wcale nie
patrzy na obrazy.



ZADANIE 8

Sformułuj poniższe zdanie tak, aby wypowiedzi były wyrażone procentami.

MATINE
UlaK

**Cena tego obrazu
to 1,5 raza więcej niż
moja pensja!**




"Matematyka z plusem" GWO

ZADANIE 9

Narysuj trzy kwadraty o wymiarach
5 cm na 5 cm.

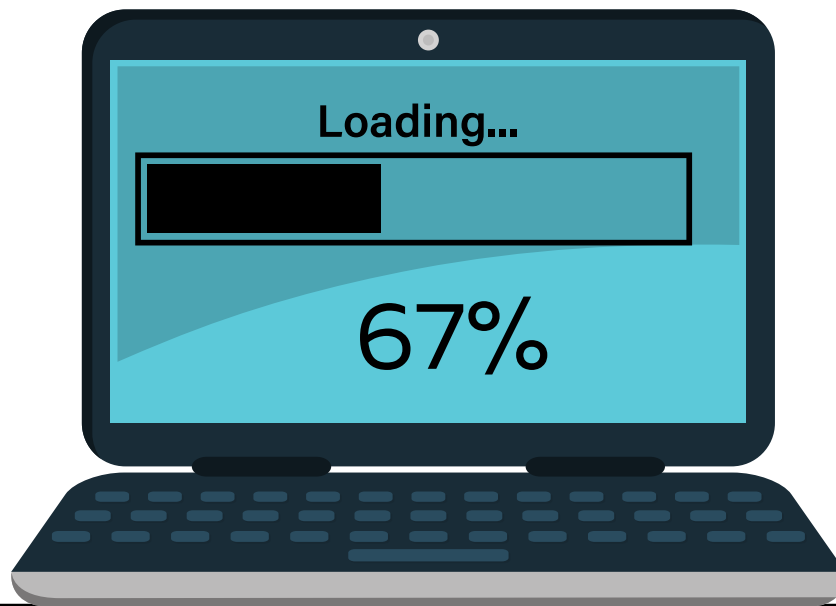


- zamaluj 50% pierwszego kwadratu
- 70% drugiego kwadratu
- 20 % trzeciego kwadratu



ZADANIE 10

Na ekranie komputera widać
ile procent pliku ściągnięto.
Ile procent pliku zostało do pobraniu?



MATINF
UlaK

"Matematyka z plusem" GWO

ZADANIE 11

MATINE
UlaK

Piraci rozdzielają skarb. Który z nich otrzyma największą część skarbu, a który najmniejszą?



Ja wezmę 0,3 skarbu,
ty 20%. Czacha
dostanie 10%, a resztę
oddamy Leonowi.

ZADANIE 12

Podane procenty zamień na ułamki dziesiętne.

- 45%
- 85%
- 160%
- 250%
- 150%



MATINE
Ułak

ZADANIE 13

Podane procenty zamień na ułamki zwykłe.

- 45%
- 85%
- 160%
- 250%
- 150%



MATINE
UlaK

ZADANIE 14

Paweł i Gawęł pokryli szkody spowodowane zalaniem mieszkania. Gawęł zapłacił 1350 zł, co stanowiło 50% wszystkich kosztów.
Jaką kwotę zapłacili razem?




ZADANIE 15

Morza i oceany zajmują 71% powierzchni Ziemi.
Ile procent powierzchni Ziemi zajmują lądy?



ZADANIE 16

Na parkingu przed fabryką
stoi 300 samochodów.
25% samochodów to samochody
typu kombi. Ile ich jest?



MATINE
UlaK

ZADANIE 17

Na parkingu przed fabryką
stoi 300 samochodów.

50% z nich wyprodukowano w Polsce.
Ile ich jest?



ZADANIE 18

W 1795 r., w wyniku III rozbioru, nasz kraj został ostatecznie rozdzielony między 3 zaborców:

Rosję, Prusy i Austrię. Rosja zajęła po tym podziale 63% terytorium Polski, Prusy - 19%, a Austria pozostałą część.

Który z krajów zajął większy obszar: Prusy czy Austria?