



O ile więcej? O ile mniej?

Zadanie 1

Przyjrzyj się poniższym obrazkom, a następnie odpowiedz na poniższe pytania. Zapisz odpowiednie działania i rozwiąż je.



O ile więcej jest kotów niż psów?

--	--	--	--	--	--	--	--	--	--

O ile mniej jest myszy niż psów?

--	--	--	--	--	--	--	--	--	--

O ile więcej jest pingwinów niż myszy?

--	--	--	--	--	--	--	--	--	--

O ile mniej jest koni niż kotów?

--	--	--	--	--	--	--	--	--	--

O ile więcej jest kotów niż pingwinów?

--	--	--	--	--	--	--	--	--	--

O ile mniej jest koni niż psów?

--	--	--	--	--	--	--	--	--	--

O ile więcej jest pingwinów niż koni?

--	--	--	--	--	--	--	--	--	--

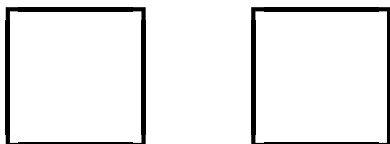
O ile mniej jest koni niż myszy?

--	--	--	--	--	--	--	--	--	--

Zadanie 2

Rzuć dwiema kostkami do gry. Następnie w dwóch poniższych kwadratach narysuj liczbę oczek wyrzuconych na każdej kostce. Pomaluj na zielono kwadrat, w którym jest większa liczba oczek, a drugi na czerwono.

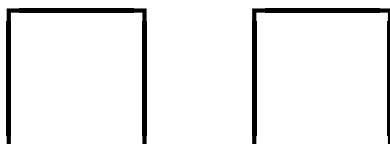
a)



O ile więcej jest oczek w kwadracie zielonym niż czerwonym. Napisz odpowiednie działanie i rozwiąż je.



b)



O ile mniej jest oczek w kwadracie czerwonym niż zielonym. Napisz odpowiednie działanie i rozwiąż je.



Zadanie 3

Zapisz odpowiednie działania zgodne z treścią zadania, a następnie je oblicz.

a) Na stole leży 5 jabłek, a w koszyku są 2 jabłka.
Ile więcej jabłek leży na stole?



b) W twoim ogrodzie jest 8 czerwonych kwiatków i 3 niebieskie kwiatki. Ile więcej kwiatków jest czerwonych niż niebieskich?



c) W pudełku jest 12 zabawek, a na stole jest 8 zabawek. Ile zabawek więcej jest w pudełku niż na stole?

