

Zadania tekstowe

Zadanie 1

Oliwia miała 35 złotych, a jej brat miał 47 złotych. Ile pieniędzy mają razem?

CO WIEMY:

Pieniądze

Oliwii:

Pieniądze brata


Oliwii:

O CO PYTAMY:

Ile razem pieniędzy mają Oliwia i jej brat?

Zapisz obok odpowiednie działanie.

Oblicz go sposobem pisemnym.



ODPOWIEDŹ:

Zadanie 2

Janek zebrał 68 żołądzi, a jego siostra Ala 25 żołądzi. Ile żołądzi mają razem?

CO WIEMY:

żołądzie Janka:


Żołądzie Ali:

O CO PYTAMY:

Ile razem żołądzi mają Janek i Ala?

Zapisz obok odpowiednie działanie.

Oblicz go sposobem pisemnym.




ODPOWIEDŹ:



Zadanie 3

W sklepie było 56 jabłek i 39 gruszek. Ile owoców było razem?



CO WIEMY:

liczba jabłek:

liczba gruszek:

O CO PYTAMY:

Ile razem jest jabłek i gruszek?

Zapisz obok odpowiednie działanie.

Oblicz go sposobem pisemnym.



ODPOWIEDŹ:

Zadanie 4

Oskar miał 85 czerwonych klocków i 23 niebieskie klocki. Ile klocków ma Oskar?

CO WIEMY:

liczba czerwonych
klocków:

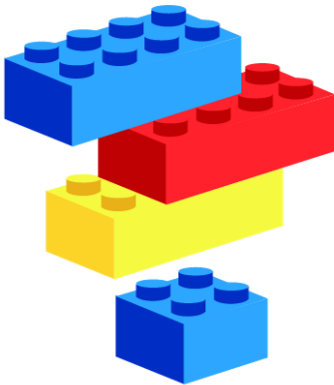
liczba niebieskich
klocków:

O CO PYTAMY:

Ile razem jest klocków?

Zapisz obok odpowiednie działanie.

Oblicz go sposobem pisemnym.



ODPOWIEDŹ:

Zadanie 5

W szkole były 54 dziewczynki i 73 chłopców. Ile uczniów jest w tej szkole?

CO WIEMY:

liczba

dziewczynek:

liczba chłopców:

O CO PYTAMY:

Ile razem jest dzieci w szkole?

Zapisz obok odpowiednie działanie.

Oblicz go sposobem pisemnym.



ODPOWIEDŹ:

Poniższe zadania rozwiąż podobnie, jak te od 1 do 6. Najpierw zapisz, co wiemy z opisu zadania, a potem to, co mamy policzyć. Następnie zapisz obliczenia sposobem pisemnym. Nie zapomnij zanotować odpowiedzi.

Zadanie 7

Ola miała w skarbonce 731 złotych. Dostała od babci 486 złotych na urodziny. Ile pieniędzy ma teraz Ola?

Zadanie 8

Księgarnia zamówiła 857 podręczników z matematyki i 234 podręczniki z fizyki. Ile podręczników zamówiła razem?

Zadanie 9

Kasia kupiła tort za 245 złotych, a kwiaty na przyjęcie za 189 złotych. Ile złotych wydała Kasia na wszystkie zakupy?

Zadanie 10

W sklepie było 367 puszek coli i 289 puszek lemoniady. Ile puszek napojów było razem w sklepie?

Zadanie 11

Szkoła zamówiła 520 ołówków i 370 długopisów. Ile artykułów biurowych zamówiła szkoła?

