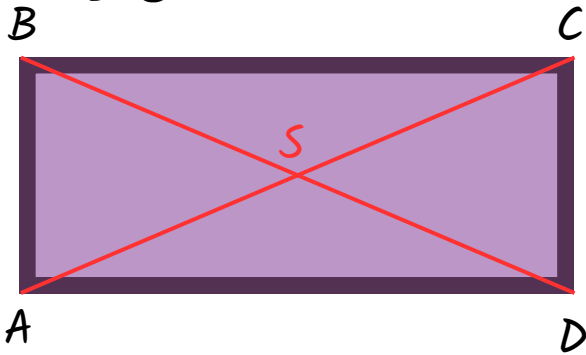




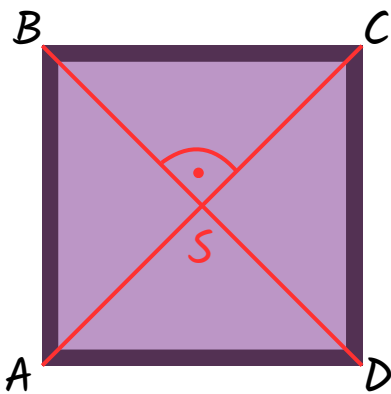

PROSTOKĄT



$$AS = CS = BS = DS$$
$$AC = BD$$

- Ma wszystkie kąty proste.
- Ma po dwie pary boków tej samej długości
- Przekątne są tej samej długości i przecinają się w połowie

KWADRAT



$$AS = CS = BS = DS$$
$$AC = BD$$

- Ma wszystkie kąty proste.
- Boki są jednakowej długości.
- Przekątne są tej samej długości, przecinają się w połowie pod kątem prostym.

UWAGA!!! Kwadrat jest prostokątem!!!

